

# matematică

## algebră

## geometrie

**clasa a VIII-a**

**partea a II-a**

ediția a VIII-a

**mate 2000 – consolidare**

ÎNVĂȚARE DE CONSOLIDARE®

*antrenament*



Soluțiile testelor de autoevaluare  
pot fi consultate la adresa:  
[https://www.edituraparelela45.ro/  
download/solutii\\_teste\\_de\\_autoevaluare  
\\_consolidare\\_clasa8\\_p2\\_2019-2020.pdf](https://www.edituraparelela45.ro/download/solutii_teste_de_autoevaluare_consolidare_clasa8_p2_2019-2020.pdf)



### ALGEBRĂ

<b>Capitolul I. Funcții</b> .....	<b>5</b>
1. Noțiunea de funcție. <b>Funcții definite pe mulțimi finite</b> .....	6
2. Funcția liniară .....	10
Recapitulare și sistematizare prin teste .....	18
<i>Test de autoevaluare</i> .....	23
<b>Capitolul II. Ecuații de gradul I</b> .....	<b>25</b>
Recapitulare și sistematizare prin teste .....	30
<i>Test de autoevaluare</i> .....	33
<b>Capitolul III. Sisteme de ecuații</b> .....	<b>35</b>
1. Ecuații de gradul I cu <b>două necunoscute</b> .....	35
2. Sisteme de două <b>ecuații de gradul I</b> cu două necunoscute.....	36
3. Tipuri deosebite de <b>sisteme</b> .....	41
<b>Capitolul IV. Probleme rezolvate cu ajutorul ecuațiilor și al sistemelor de ecuații</b> .....	<b>43</b>
Probleme de <b>matematică aplicată</b> în viața cotidiană.....	46
Recapitulare și sistematizare prin teste .....	47
<i>Test de autoevaluare</i> .....	49
<b>Capitolul V. Rezolvarea ecuației de gradul al doilea</b> .....	<b>51</b>
Probleme de <b>matematică aplicată</b> în viața cotidiană.....	56
<i>Test de autoevaluare</i> .....	57
<b>Capitolul VI. Inecuații de gradul I cu o necunoscută</b> .....	<b>59</b>
Recapitulare și sistematizare prin teste .....	63
<i>Test de autoevaluare</i> .....	65
<b>Capitolul VII. Teme pentru recapitularea finală</b> .....	<b>67</b>
1. Numere naturale. <b>Puțeri</b> cu exponent număr natural. Divizibilitate .....	67
2. Rapoarte. <b>Proporții</b> . <b>Proportionalitate</b> .....	69
3. Procente .....	70
4. Numere reale .....	71
5. <b>Calcul algebric</b> .....	72
6. <b>Probleme de aritmetică</b> ce se pot rezolva cu ajutorul ecuațiilor și al sistemelor de ecuații.....	73
7. <b>Ecuații de gradul I cu o necunoscută</b> .....	74
8. Funcții .....	75
9. Inecuații.....	77
Recapitulare și sistematizare prin teste .....	78
<i>Test de autoevaluare 1</i> .....	81
<i>Test de autoevaluare 2</i> .....	83

<b>Capitolul I. Prisma dreaptă.....</b>	<b>85</b>
1. Prisma patrulateră regulată dreaptă. Paralelipipedul dreptunghic .....	85
2. Cubul .....	90
3. Prisma triunghiulară regulată .....	92
Probleme de matematică aplicată în viața cotidiană.....	95
Recapitulare și sistematizare prin teste .....	97
<i>Test de autoevaluare</i> .....	99
<b>Capitolul II. Piramida regulată .....</b>	<b>101</b>
Probleme de matematică aplicată în viața cotidiană.....	107
Recapitulare și sistematizare prin teste .....	108
<i>Test de autoevaluare</i> .....	111
<b>Capitolul III. Trunchiul de piramidă regulată.....</b>	<b>113</b>
Recapitulare și sistematizare prin teste .....	117
<i>Test de autoevaluare</i> .....	119
<b>Capitolul IV. Corpuri rotunde.....</b>	<b>121</b>
1. Cilindrul circular drept .....	121
2. Conul circular drept.....	123
<i>Test de autoevaluare</i> .....	127
3. Trunchiul de con circular drept .....	129
<i>Test de autoevaluare</i> .....	133
Recapitulare și sistematizare prin teste .....	135
4. Sfera .....	136
<b>Modele de teze semestriale .....</b>	<b>137</b>
TEZE DE TIP A .....	137
TEZE DE TIP B .....	142
<b>Recapitulare și evaluare finală.....</b>	<b>147</b>
<b>Exerciții și probleme recapitulative pentru evaluarea finală.....</b>	<b>147</b>
ALGEBRĂ .....	147
GEOMETRIE .....	150
<b>Modele de teste pentru evaluarea finală .....</b>	<b>153</b>
<b>Modele de teste pentru Evaluarea Națională.....</b>	<b>158</b>
<b>INDICAȚII ȘI RĂSPUNSURI.....</b>	<b>183</b>

## Capitolul I Funcții

### PP Competențe specifice

- C<sub>1</sub>. Recunoașterea unor corespondențe care sunt funcții
- C<sub>2</sub>. Utilizarea valorilor unor funcții în rezolvarea unor ecuații și a unor inecuații
- C<sub>3</sub>. Reprezentarea în diverse moduri a unor corespondențe și/sau a unor funcții în scopul caracterizării acestora
- C<sub>4</sub>. Exprimarea prin reprezentări grafice a unor noțiuni de geometrie plană

### PE-PP

Fie  $A$  și  $B$  două mulțimi. Dacă printr-un procedeu oarecare facem ca *fiecărui* element din mulțimea  $A$  să-i corespundă *un singur* element din mulțimea  $B$ , vom spune că am definit o funcție de la  $A$  la  $B$ .

Mulțimea  $A$  se numește **domeniu de definiție** al funcției, iar mulțimea  $B$  se numește **codomeniul** sau mulțimea în care funcția ia valori. În general, o funcție  $f$  definită pe  $A$  cu valori în mulțimea  $B$  va fi notată  $f: A \rightarrow B$ . Citim „ $f$  definită pe  $A$  cu valori în  $B$ ”. Funcțiile se notează de obicei cu  $f, g, h, \dots$

Fie dată o funcție  $f: A \rightarrow B$ . Dacă ea face ca elementului  $a \in A$  să-i corespundă elementul  $b \in B$ , se scrie  $f(a) = b$ ; spunem că  $b$  este valoarea funcției în  $a$ .

Legătura pe care o stabilește funcția între elementele  $x \in A$  și valorile corespunzătoare  $f(x)$  din  $B$  se numește **lege de corespondență**. O funcție se descrie prin trei componente:

- domeniul de definiție;
- codomeniul;
- legea de corespondență.

Legea de corespondență a unei funcții poate fi dată în mai multe moduri:

- a) se poate exprima prin indicarea într-un **tabel** a valorilor corespunzătoare elementelor din domeniul de definiție;
- b) se poate descrie cu ajutorul unei **formule** prin care se precizează valoarea  $f(x)$  pentru oricare  $x$  din domeniul de definiție;
- c) se poate descrie cu ajutorul diagramelor.

Fiind dată o funcție  $f: A \rightarrow B$ , mulțimea de puncte din plan având coordonatele  $(x, y)$ , unde  $x$  este un element oarecare din  $A$ , iar  $y = f(x)$ , va fi numită **graficul funcției**. Această mulțime se scrie  $G_f = \{(x, y) \mid y = f(x), x \in A\}$ .

Egalitatea  $y = f(x)$ , adevărată pentru fiecare element  $x$  din  $A$ , va fi numită **ecuația graficului funcției  $f$** . Se obișnuiește să se noteze funcția în felul următor:  $y = f(x), x \in A$ .

Fie  $f: A \rightarrow B$  o funcție. **Imaginea** (sau mulțimea valorilor) funcției  $f$  este mulțimea  $\text{Im } f = \{f(x) \mid x \in A\}$ . În mod evident,  $\text{Im } f \subset B$ .

Se mai poate scrie și astfel:

$$\text{Im } f = \{y \in B \mid (\exists) x \in A \text{ astfel încât } y = f(x)\}.$$

O funcție al cărei domeniu de definiție și codomeniu sunt submulțimi ale lui  $\mathbb{R}$  (mulțimi de numere) se numește **funcție numerică**.

Două funcții  $f: A \rightarrow B$  și  $g: C \rightarrow D$  sunt **egale** dacă  $A = C, B = D$  și  $f(x) = g(x)$ , oricare ar fi  $x \in A$ . Se notează  $f = g$ .

În general, o funcție  $f: \mathbb{R} \rightarrow \mathbb{R}$  descrisă de formula  $f(x) = ax + b$  (unde  $a$  și  $b$  sunt numere reale) se numește **funcție liniară**. Reprezentarea geometrică a mulțimii grafic pentru o funcție liniară este o dreaptă.

Pentru a trasa graficul unei funcții liniare, este suficient să dăm variabilei  $x$  două valori distincte.

**O**bservații:

1. Pentru  $f: \mathbb{R} \rightarrow \mathbb{R}, f(x) = ax + b$ , dacă  $a \neq 0$  și  $b = 0$ , se obține funcția liniară  $f(x) = ax$ , al cărei grafic conține originea axelor de coordonate.
2. Pentru  $f: \mathbb{R} \rightarrow \mathbb{R}, f(x) = ax + b$ , dacă  $a = 0$  și  $b \neq 0$ , se obțin funcțiile liniare de forma  $f(x) = b$ , ale căror grafice sunt drepte paralele cu axa  $Ox$ . Funcțiile de acest fel sunt numite funcții constante nenule.
3. Pentru  $f: \mathbb{R} \rightarrow \mathbb{R}, f(x) = ax + b$ , dacă  $a = b = 0$ , obținem o funcție  $f(x) = 0$ , al cărei grafic coincide cu axa  $Ox$ .
4. Uneori, pentru trasarea graficului este mai comod să se stabilească punctele în care graficul intersectează axele de coordonate.

$$G_f \cap Oy = A(0; f(0)) \Leftrightarrow G_f \cap Oy = A(0; b); G_f \cap Ox = B\left(-\frac{b}{a}; 0\right).$$

PE-PP

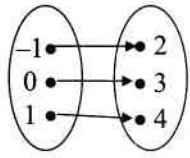
**1. Noțiunea de funcție. Funcții definite pe mulțimi finite**

**Exemple:**

1. Descrieți printr-o diagramă, apoi printr-un tabel funcția următoare:

$$f: \{-1; 0; 1\} \rightarrow \{2; 3; 4\}, f(x) = x + 3.$$

**Soluție:**  $f(-1) = -1 + 3 = 2, f(0) = 0 + 3 = 3, f(1) = 1 + 3 = 4.$



$x$	-1	0	1
$f(x)$	2	3	4

## 2. Explicitați domeniul de definiție pentru funcția

$$f: A \rightarrow \mathbb{R}, f(x) = \frac{2}{x} \text{ și } A = \{x \in \mathbb{Z} \mid -1 \leq x < 3\}.$$

Respect pentru oameni și cărți

**Soluție:** Cum  $x \neq 0 \Rightarrow A = \{-1, 1, 2\}$ .

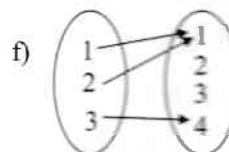
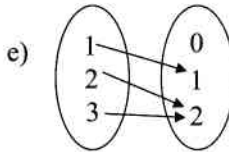
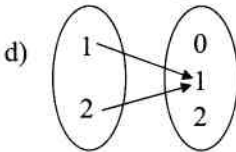
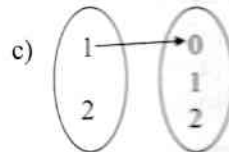
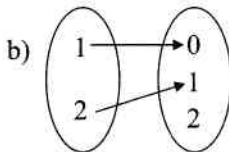
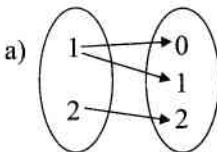
3. Fie funcția  $f: A \rightarrow \mathbb{R}, f(x) = ax + 2$  și  $A = \{x \in \mathbb{Z}^* \mid |x| \leq 2\}$ . Determinați valoarea lui  $a \in \mathbb{Z}$  pentru care punctul  $B(1; -1)$  aparține graficului funcției.

**Soluție:**  $A = \{-2, -1, 1, 2\}$ . Dacă  $B(1; -1) \in G_f \Rightarrow f(1) = -1$ , dar  $f(1) = a + 2 \Rightarrow a + 2 = -1, a = -3$ .

## ● ● ● activități de învățare ● ● ●

### PE Înțelegere \*

1. Care dintre diagramele de mai jos descrie o funcție?

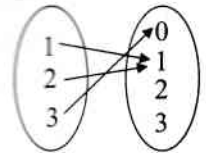


2. Diagrama alăturată descrie funcția  $f$ . Stabiliți domeniul și codomeniul lui  $f$ . Determinați  $f(2)$  și  $f(3)$ .

3. Descrieți printr-o diagramă, apoi printr-un tabel, funcțiile următoare:

a)  $f: \{0, 1, 2\} \rightarrow \{0, 2, 4, 6\}, f(x) = 2x + 2$ ;

b)  $g: \{-2, -1, 0, 1, 2\} \rightarrow \{0, 1, 2, 3, 4\}, g(x) = x^2$ .



4. Care dintre tabelele de mai jos descrie o funcție?

$x$	0	1	2
$f(x)$	1	3	3

$x$	1	2	1
$f(x)$	2	4	5

$x$	-1	2	4
$f(x)$	0	4	6

$x$	-2	-1	0	1	-1
$f(x)$	4	5	3	2	1

5. Explicitați domeniul de definiție și legea de asociere pentru funcția  $f: A \rightarrow \mathbb{R}, f(x) = \sqrt{x^2 - 4x + 4}$ , unde  $A = \{x \in \mathbb{Z} \mid |x| \leq 3\}$ . Care este mulțimea valorilor funcției  $f$ ? Care este probabilitatea ca, alegând numărul  $n$  din domeniul de definiție al funcției  $f$ , să obținem  $f(n) \leq 0$ ?

6. Care dintre următoarele relații nu reprezintă o funcție?

a)  $f: \{-1, 0, 1, 2\} \rightarrow \{0, 1\}, f(x) = x^2$ ;

b)  $g: \{0, 1, 2, 3\} \rightarrow \mathbb{N}, g(x) = x^2$ ;

c)  $h: \mathbb{R} \rightarrow \mathbb{R}, h(x) = \frac{2}{x}$ .

7. Fie funcția  $f: \{-1, -1, 0, 1, 2\} \rightarrow \mathbb{R}, f(x) = x + 3$ . Stabiliți care dintre punctele următoare aparțin graficului funcției:  $A(-2; 1); B(-1; 3); C(0; 3); D(1; 5); E(2; 6)$ .

8. Determinați  $\text{Im } f$  (mulțimea valorilor funcției) în fiecare dintre cazurile următoare:

- a)  $f: \{-1; 0; 1; 2\} \rightarrow \mathbb{R}, f(x) = x^2 + 1;$   
 b)  $f: \{-2; -1; 0; 1; 2\} \rightarrow \mathbb{R}, f(x) = 2x + 3;$   
 c)  $f: \{-3; -2; -1; 0; 1\} \rightarrow \mathbb{R}, f(x) = -x + 2.$

9. Pentru funcțiile de mai jos, stabiliți codomeniul cu numărul minim de elemente, știind că:

- a)  $f: \{-2; -1; 0; 1; 2; 3\} \rightarrow B$ , unde  $f(x) = x + 3;$   
 b)  $f: \{-3; -2; -1; 1; 2; 3; 4\} \rightarrow B$ , unde  $f(x) = x^2;$   
 c)  $f: \{-2; -1; 0; 1; 2; 3; 4\} \rightarrow B$ , unde  $f(x) = 2x + 1.$

10. Pentru funcțiile de mai jos, stabiliți domeniul de definiție, știind că fiecare element al codomeniului este imaginea unui element din domeniu:

- a)  $f: A \rightarrow \{-7; -5; -1; 1; 4\}, f(x) = 2x - 3;$   
 b)  $f: A \rightarrow \{4; 3; 2; 1; 0; -1\}, f(x) = -x + 1;$   
 c)  $f: A \rightarrow \{0; 4; 9; 16\}, f(x) = x^2.$

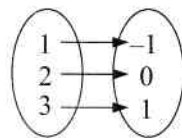
11. Determinați  $a \in \mathbb{R}$ , știind că:

- a)  $f: \{-2; 1; 2; 3\} \rightarrow \mathbb{R}, f(x) = ax - 2$  și  $A(1; -3) \in G_f;$   
 b)  $f: \{-2; -1; 1; 2\} \rightarrow \mathbb{R}, f(x) = 3x + a$  și  $A(1; -1) \in G_f;$   
 c)  $f: \{-3; -1; 1; 2\} \rightarrow \mathbb{R}, f(x) = ax - 5$  și  $A(2; -1) \in G_f.$

12. Care dintre perechile de funcții reprezintă funcții egale?

a)  $f: \{-2; -1; 0; 1; 2\} \rightarrow \mathbb{N}; f(x) = x^2$  și  $g: \{-2; -1; 0; 1; 2\} \rightarrow \mathbb{N},$   
 $g(y) = |y|;$

b)  $f: \{1; 2; 3\} \rightarrow \{-1; 0; 1\}; f(x) = x - 2$  și  $g(x)$  reprezentată alăturat.



**PE** Aplicare și exercitare \*\*

13. Pentru funcțiile de mai jos, stabiliți  $\text{Im } f$  și reprezentați grafic mulțimea într-un sistem de axe:

- a)  $f: \{-2; 0; 1; 2\} \rightarrow \{-1; 1; 2; 3; 4; 5; 6\}, f(x) = x + 3;$   
 b)  $f: \{-3; -2; 1; 3; 4\} \rightarrow \mathbb{R}, f(x) = x^2;$   
 c)  $f: \{-2; -1; 0; 1; 2\} \rightarrow \mathbb{Z}, f(x) = 2x + 1.$

14. Pentru funcțiile de mai jos, scrieți mulțimea grafic și reprezentați-o într-un sistem de axe de coordonate:

- a)  $f: \{-1; 0; 1; 2; 3\} \rightarrow \mathbb{R}, f(x) = -2x + 3;$   
 b)  $f: \{-4; -3; -2; -1; 0; 1; 2\} \rightarrow \mathbb{R}, f(x) = \begin{cases} x + 2, & \text{dacă } x < -1 \\ -2x, & \text{dacă } x \geq -1 \end{cases};$

$$c) f: \{-3; -2; -1; 0; 1; 2; 3\} \rightarrow \mathbb{R}, f(x) = \begin{cases} 2x - 2, & \text{dacă } x \leq -1 \\ x + 1, & \text{dacă } x \in \{0; 1\} \\ 3x - 2, & \text{dacă } x > 1 \end{cases}$$

**15.** Reprezentați grafic funcțiile:

a)  $f: \{-2; -1; 0; 1; 2; 3\} \rightarrow \mathbb{R}, f(x) = -x^2 + 3;$

b)  $f: \{-4; -3; -2; -1; 0; 1; 2\} \rightarrow \mathbb{R}, f(x) = \begin{cases} -x + 1, & \text{dacă } x < -1 \\ x + 2, & \text{dacă } x \geq -1 \end{cases};$

c)  $f: A \rightarrow \mathbb{R}, f(x) = -x + 2$ , unde  $A = \{x \in \mathbb{Z} \mid |x| < 3\}.$

**16.** Reprezentați grafic funcțiile:

a)  $f: A \rightarrow \mathbb{R}, f(x) = 2x - 3$ , unde  $A = \{x \in \mathbb{Z} \mid |x - 1| \leq 2\};$

b)  $f: A \rightarrow \mathbb{R}, f(x) = -\frac{1}{2}x + 1$ , unde  $A = \{x \in \mathbb{Z} \mid -2 \leq \frac{3x - 1}{5} < 1\};$

c)  $f: \{-3; -2; -1; 0; 1; 2; 3\} \rightarrow \mathbb{R}, f(x) = |x| - 2.$

**17.** Se consideră funcția  $f: \{-2; -1; 0; 1; 3\} \rightarrow \mathbb{R}, f(x) = \begin{cases} x - 1, & \text{dacă } x < 0 \\ 2x^2, & \text{dacă } x \geq 0 \end{cases}$ . Determinați

numerele reale  $a, b, c$  și  $d$ , știind că punctele  $A(-2; a), B(-1; b), C(1; c + 4)$  și  $D(3; 6d)$  aparțin graficului funcției.

**18.** Reprezentați grafic funcțiile:

a)  $f: \{-2; -1; 1; 2\} \rightarrow \mathbb{R}, f(x) = \frac{4}{x};$

b)  $f: \{-3; -1; 0; 3\} \rightarrow \mathbb{R}, f(x) = |x|;$

c)  $f: \{-2; -1; 1; 4\} \rightarrow \mathbb{R}, f(x) = -|x|.$

## PE Aprofundare și performanță \*\*\*

**19.** Se consideră funcția  $f: \{-3; -2; 0; 1; 2\} \rightarrow \mathbb{R}, f(x) = ax + b$ . Determinați  $a, b \in \mathbb{R}$ , știind că punctele  $A(-2; -8)$  și  $B(2; 4)$  aparțin graficului funcției. Reprezentați grafic funcția.

**20.** Demonstrați că nu există o funcție  $f: \mathbb{R} \rightarrow \mathbb{R}$  astfel încât, pentru orice număr real  $x$ , să avem:  $f(x) + f(2 - x) = x + 1$ .

**21.** Considerăm funcția  $f: \mathbb{N}^* \rightarrow \mathbb{N}^*$ , unde  $f(n)$  este numărul divizorilor lui  $n$ .

a) Calculați  $f(2), f(4), f(8), f(24), f(36)$ .

b) Caracterizați numerele  $x$  pentru care  $f(x) = 2$ , apoi pe cele pentru care  $f(x) = 3$ .

**22.** Se consideră funcția  $f: A \rightarrow \mathbb{Z}$ , unde  $A = \left\{x \in \mathbb{Z} \mid \left| \frac{x-1}{2} \right| \leq 2\right\}, f(x) = |x|.$

a) Determinați elementele mulțimilor  $A$  și  $\text{Im } f$ .

b) Reprezentați grafic funcția.

c) Calculați suma elementelor mulțimii  $\text{Im } f$ .



23. Fie funcția  $f: \mathbb{N} \rightarrow \mathbb{N}$ ,  $f(x)$  = ultima cifră a numărului natural  $x^2$ .

- a) Determinați  $\text{Im } f$ .  
 b) Calculați  $f(0) + f(1) + f(2) + \dots + f(21)$ .

24. Fie funcția  $f: \mathbb{N} \rightarrow \mathbb{N}$ ,  $f(x)$  = ultima cifră a numărului natural  $3^x$ .

- a) Determinați  $\text{Im } f$ .  
 b) Calculați  $f(0) + f(1) + f(2) + \dots + f(32)$ .

## PE-PP 2. Funcția liniară

### Exemple:

1. Determinați funcția liniară al cărei grafic trece prin punctele  $A(-1; 7)$  și  $B(1; -3)$ .

**Soluție:** Fie  $f: \mathbb{R} \rightarrow \mathbb{R}$ ,  $f(x) = ax + b$ . Dacă  $A(-1; 7) \in G_f \Rightarrow f(-1) = -7$  și  $f(-1) = -a + b \Rightarrow -a + b = -7$ . Dacă  $B(1; -3) \in G_f \Rightarrow f(1) = -3$  și  $f(1) = a + b \Rightarrow a + b = -3$ . Adunând cele două relații, se obține  $2b = -10$ , de unde  $b = -5$  și apoi  $a = 2 \Rightarrow f(x) = 2x - 3$ .

2. Se consideră funcțiile  $f: \mathbb{R} \rightarrow \mathbb{R}$ ,  $f(x) = +2x - 1$  și  $g(x) = -2x + 3$ . Determinați punctul de intersecție al graficelor celor două funcții.

**Soluție:**  $G_f \cap G_g = M(x; y) \Rightarrow f(x) = y$  și  $g(x) = y \Rightarrow f(x) = g(x) \Rightarrow 2x - 1 = -2x + 3 \Rightarrow 4x = 4 \Rightarrow x = 1 \Rightarrow y = 1 \Rightarrow M(1; 1)$ .

## ● ● ● activități de învățare ● ● ●

### PE Înțelegere \*

1. Reprezentați grafic funcțiile:

- a)  $f: \mathbb{R} \rightarrow \mathbb{R}$ ,  $f(x) = 2x + 1$ ;                      b)  $f: \mathbb{R} \rightarrow \mathbb{R}$ ,  $f(x) = 2x$ ;  
 c)  $f: \mathbb{R} \rightarrow \mathbb{R}$ ,  $f(x) = 1$ ;                              d)  $f: \mathbb{R} \rightarrow \mathbb{R}$ ,  $f(x) = -x$ ;  
 e)  $f: \mathbb{R} \rightarrow \mathbb{R}$ ,  $f(x) = 0,2x - 3$ ;                      f)  $f: \mathbb{R} \rightarrow \mathbb{R}$ ,  $f(x) = \sqrt{2}x - 1$ .

2. Reprezentați grafic funcția  $f: \mathbb{R} \rightarrow \mathbb{R}$  în fiecare dintre situațiile:

- a)  $f(x) = -3x + 2$ ;                      b)  $f(x) = \frac{x+1}{2}$ ;                      c)  $f(x) = -4x$ ;  
 d)  $f(x) = 0,5x + 0,2$ ;                      e)  $f(x) = -x + 3$ ;                      f)  $f(x) = \sqrt{3}x - 2$ .

3. Reprezentați grafic în același sistem de axe funcțiile  $f, g: \mathbb{R} \rightarrow \mathbb{R}$  în fiecare dintre cazurile:

- a)  $f(x) = 2x + 1$  și  $g(x) = x - 2$ ;                      b)  $f(x) = -3x + 2$  și  $g(x) = -2x - 3$ ;  
 c)  $f(x) = 3x - 1$  și  $g(x) = 4x - 3$ ;                      d)  $f(x) = x + 5$  și  $g(x) = 2x + 7$ .

4. Se consideră funcțiile  $f: \mathbb{R} \rightarrow \mathbb{R}$ ,  $f(x) = 3x + 1$  și  $g: \mathbb{R} \rightarrow \mathbb{R}$ ,  $g(x) = 3x - 2$ . Trasați în același sistem de axe de coordonate graficele celor două funcții. Ce observați?

5. Reprezentați grafic funcțiile:

- a)  $f: [-3; 2) \rightarrow \mathbb{R}$ ,  $f(x) = -x + 5$ ;                      b)  $f: (-\infty; 2) \rightarrow \mathbb{R}$ ,  $f(x) = x + 3$ ;  
 c)  $f: [-2; 3] \rightarrow \mathbb{R}$ ,  $f(x) = 2x - 3$ ;                      d)  $f: (-\infty; 3] \rightarrow \mathbb{R}$ ,  $f(x) = \frac{x}{3} + 1$ ;

e)  $f: [5; +\infty) \rightarrow \mathbb{R}, f(x) = \frac{2}{5}x - 2;$

f)  $f: (-3; +\infty) \rightarrow \mathbb{R}, f(x) = x.$

6. Fie funcția  $f: \mathbb{R} \rightarrow \mathbb{R}, f(x) = 3x - 2$ . Determinați punctul de pe grafic care:
- a) are abscisa egală cu  $-1$ ;
  - b) are ordonata egală cu  $4$ ;
  - c) are coordonatele egale;
  - d) are coordonatele numere opuse.
7. Fie funcția  $f: \mathbb{R} \rightarrow \mathbb{R}, f(x) = 3x - 1$ . Determinați punctul de pe grafic ce are:
- a) ordonata egală cu  $-4$ ;
  - b) coordonatele egale;
  - c) abscisa egală cu  $-2$ ;
  - d) ordonata egală cu opusa abscisei;
  - e) ordonata egală cu dublul abscisei.
8. Fie funcția  $f: \mathbb{R} \rightarrow \mathbb{R}, f(x) = 2x + 1$ . Stabiliți care dintre punctele ce urmează aparțin graficului funcției:  $A(-1; -1), B(-2; 3), C(1; 3), D(2; 5), E(0; 2)$ .
9. Fie funcția  $f: \mathbb{R} \rightarrow \mathbb{R}, f(x) = 3x + a$ .
- a) Determinați  $a \in \mathbb{R}$  pentru care  $A(-2; -3) \in G_f$ .
  - b) Trasați graficul funcției într-un sistem de axe de coordonate.
10. Se consideră funcția  $f: \mathbb{R} \rightarrow \mathbb{R}, f(x) = ax + 2$ .
- a) Determinați  $a \in \mathbb{R}$  pentru care punctul  $A(1; 3) \in G_f$ .
  - b) Pentru valoarea lui  $a$  determinată anterior, trasați graficul funcției.
11. Fie funcția  $f: \mathbb{R} \rightarrow \mathbb{R}, f(x) = 3x + b$ .
- a) Determinați  $b \in \mathbb{R}$  pentru care punctul  $A(-1; -5)$  se găsește pe graficul funcției.
  - b) Pentru valoarea lui  $b$  determinată anterior, trasați graficul funcției.
12. Fie funcția  $f: \mathbb{R} \rightarrow \mathbb{R}, f(x) = ax + b$ . Determinați forma funcției și realizați graficul acesteia în fiecare dintre cazurile prezentate în tabel.

	a)	b)	c)	d)
$a$	2	-1		
$b$	-3		2	
$f(-1)$		5		5
$f(2)$			-2	-4

13. Fie funcția  $f: \mathbb{R} \rightarrow \mathbb{R}, f(x) = ax + b$ . Determinați forma funcției și realizați graficul acesteia în fiecare dintre cazurile prezentate în tabel.

	a)	b)	c)	d)
$a$	0	-1		$\frac{1}{3}$
$b$	-2		1	
$f(-2)$		5	+3	
$f(3)$				-2

14. Fie funcția  $f: \mathbb{R} \rightarrow \mathbb{R}, f(x) = (m - 3)x + 5 - 3m$ .
- a) Determinați valoarea lui  $m \in \mathbb{R}$  pentru care  $M(-1; -4) \in G_f$ .
  - b) Pentru  $m = 3$ , trasați graficul funcției.
15. Determinați valorile parametrului  $m \in \mathbb{R}$  pentru care punctul  $M(m; -1)$  se găsește pe graficul funcției  $f: \mathbb{R} \rightarrow \mathbb{R}$ , definită prin:
- a)  $f(x) = -2x + 5;$
  - b)  $f(x) = 4x + 7;$

c)  $f(x) = 2012x + 2011$ ;

e)  $f(x) = (m - 4)x + 3$ ;

g)  $f(x) = mx + 2m - 1$ ;

d)  $f(x) = mx - 2$ ;

f)  $f(x) = mx - 3m - 5$ ;

h)  $f(x) = mx - 5m + 3$ .

**16.** Se consideră funcția  $f: \mathbb{R} \rightarrow \mathbb{R}$ ,  $f(x) = (2m - 3)x + 7$ .

a) Determinați  $m \in \mathbb{R}$  pentru care punctul  $M(2; -7) \in G_f$ .

b) Pentru  $m = -2$ , trasați graficul funcției.

**17.** Se consideră funcția  $f: \mathbb{R} \rightarrow \mathbb{R}$ ,  $f(x) = (a + 1)x + 2a + 4$ .

a) Determinați valoarea lui  $a \in \mathbb{R}$  pentru care graficul funcției conține originea sistemului de axe de coordonate.

b) Pentru  $a = -2$ , reprezentați grafic funcția.

**18.** Determinați valorile lui  $a \in \mathbb{R}^*$  pentru care punctul  $A(a; 2) \in G_f$ , unde  $f: \mathbb{R} \rightarrow \mathbb{R}$  este definită prin:

a)  $f(x) = -x + 3$ ;

b)  $f(x) = \frac{1}{2}x + 1$ ;

c)  $f(x) = -73x + 71$ .

**19.** Fie funcția  $f: \mathbb{R} \rightarrow \mathbb{R}$  și  $f(x) = ax + b$ . Determinați  $a, b \in \mathbb{R}$  pentru care graficul funcției este dreapta  $AB$ , în fiecare dintre cazurile:

a)  $A(-1; -7)$  și  $B(1; -1)$ ;

b)  $A(-2; -7)$  și  $B(2; 1)$ ;

c)  $A(-1; 7)$  și  $B(1; 3)$ ;

d)  $A(-2; 10)$  și  $B(2; -2)$ .

## PE Aplicare și exersare \*\*

**20.** Determinați punctul de intersecție al graficelor funcțiilor  $f: \mathbb{R} \rightarrow \mathbb{R}$  și  $g: \mathbb{R} \rightarrow \mathbb{R}$ , în fiecare dintre cazurile:

a)  $f(x) = x + 3$ ;  $g(x) = 2x - 1$ ;

b)  $f(x) = 2x - 3$ ;  $g(x) = x + 1$ ;

c)  $f(x) = 2x + 3$ ;  $g(x) = 3x - 1$ ;

d)  $f(x) = 3x + 1$ ;  $g(x) = x - 5$ .

**21.** Se consideră funcția  $f: \mathbb{R} \rightarrow \mathbb{R}$ ,  $f(x) = -x + 2$ .

a) Determinați numerele reale  $a$  și  $b$ , știind că punctele  $A(0; a)$  și  $B(b; 0)$  aparțin graficului funcției.

b) Trasați graficul funcției.

**22.** Se consideră funcția  $f: \mathbb{R} \rightarrow \mathbb{R}$ ,  $f(x) = x - 6$ .

a) Determinați numerele reale  $a$  și  $b$ , știind că punctele  $A(0; a)$  și  $B(b; 0)$  aparțin graficului funcției.

b) Trasați graficul funcției și calculați aria triunghiului  $AOB$ .

**23.** Determinați aria triunghiului  $AOB$ , unde  $A$  și  $B$  sunt punctele de intersecție ale graficului funcției  $f: \mathbb{R} \rightarrow \mathbb{R}$  cu axele de coordonate, în fiecare dintre cazurile:

a)  $f(x) = x + 4$ ;

b)  $f(x) = 2x - 5$ ;

c)  $f(x) = -2x - 4$ ;

d)  $f(x) = \frac{1}{2}x + 3$ ;

e)  $f(x) = \sqrt{2}x + 3$ ;

f)  $f(x) = \frac{x+1}{3}$ .

**24.** Determinați valorile lui  $a \in \mathbb{R}^*$  pentru care punctul  $M(a; 2a + 1) \in G_f$ , unde  $f: \mathbb{R} \rightarrow \mathbb{R}$  este definită prin:

a)  $f(x) = \frac{1}{3}x + 2$ ;

b)  $f(x) = 3x - 2$ ;

c)  $f(x) = x - 3$ .

**25.** Fie funcția  $f: \mathbb{R} \rightarrow \mathbb{R}$ ,  $f(x) = 3x - 5$ .

a) Trasați graficul funcției într-un sistem de axe de coordonate.

b) Determinați  $a \in \mathbb{R}$  pentru care punctul  $A(2a; -3a + 13) \in G_f$ .

26. Fie funcția  $f: \mathbb{R} \rightarrow \mathbb{R}, f(x) = 4x - 3m + 8$ .

a) Determinați valoarea reală a lui  $m$  pentru care punctul  $M(2m; -m - 4)$  se găsește pe graficul funcției.

b) Pentru  $m = -2$ , reprezentați grafic funcția.

27. Fie  $f: \mathbb{R} \rightarrow \mathbb{R}, f(x) = (m - 2)x + 3m - 7$ .

a) Determinați  $m \in \mathbb{R}$  pentru care punctul  $M(-1; 3)$  se găsește pe graficul funcției.

b) Pentru  $m = 4$ , reprezentați grafic funcția.

28. Se consideră funcția  $f: \mathbb{R} \rightarrow \mathbb{R}, f(x) = -3mx + 5m - 7$ , unde  $m \in \mathbb{R}^*$ . Determinați valoarea lui  $m$  pentru care punctul  $M(m; m^2 - 3m - 7) \in G_f$ .

29. Determinați  $a \in \mathbb{Z}^*$  pentru care punctul  $A(a; 3)$  se găsește pe graficul funcției  $f: \mathbb{R} \rightarrow \mathbb{R}, f(x) = (a - 2)x + a + 3$ .

30. Fie funcția  $f: \mathbb{R} \rightarrow \mathbb{R}, f(x) = ax + b$ . Determinați valorile reale ale lui  $a$  și  $b$  pentru care reprezentarea grafică a funcției este dreapta  $OM$ , unde  $M(-1; -3)$ .

31. Determinați funcțiile liniare ale căror grafice conțin punctele:

a)  $A(-1; -1)$  și  $B(1; 3)$ ;

b)  $A(-1; 3)$  și  $B(1; 1)$ ;

c)  $A(-2; 7)$  și  $B(2; -1)$ ;

d)  $A(-2; 4)$  și  $B(2; 8)$ .

32. Stabiliți dacă următoarele puncte sunt coliniare:

a)  $A(-2; 0)$ ;  $B(2; 4)$  și  $C(5; 7)$ ;

b)  $A(-2; 5)$ ;  $B(1; -1)$  și  $C(4; -5)$ ;

c)  $A(-1; 7)$ ;  $B(2; -2)$  și  $C(3; -7)$ ;

d)  $A(-2; 3)$ ;  $B(-1; 2)$  și  $C(2; -1)$ .

33. Fie funcția  $f: \mathbb{R} \rightarrow \mathbb{R}, f(x) = ax + b$ . Determinați forma funcției, știind că punctele  $A(m; n)$  și  $B(c; d)$  aparțin graficului funcției. Reprezentați grafic funcția și determinați distanța de la originea axelor la dreapta  $AB$ , precum și aria triunghiului  $AOB$ .

	a)	b)	c)	d)
$m$	3	1	-2	-3
$n$	0	-1	-5	1
$c$	0	2	1	2
$d$	6	1	4	6

34. Se consideră funcția  $f: \mathbb{R} \rightarrow \mathbb{R}, f(x) = -\frac{4}{3}x + 4$ .

a) Trasați graficul funcției cu ajutorul punctelor de intersecție a graficului cu axele de coordonate.

b) Calculați distanța de la punctul  $M(-2; 0)$  la graficul funcției.

35. Se consideră funcția  $f: \mathbb{R} \rightarrow \mathbb{R}, f(x) = \frac{3}{4}x + 3$ .

a) Trasați graficul funcției cu ajutorul punctelor de intersecție a graficului cu axele de coordonate.

b) Calculați distanța de la punctul  $M(6; 0)$  la dreapta ce reprezintă graficul funcției.

36. Se consideră funcția  $f: \mathbb{R} \rightarrow \mathbb{R}, f(x) = 3x + 6$ .

a) Trasați graficul funcției cu ajutorul punctelor de intersecție a graficului cu axele de coordonate.

b) Calculați distanța de la punctul  $M(3; 0)$  la dreapta ce reprezintă graficul funcției.

c) Calculați suma  $S = f(1) + f(2) + \dots + f(35)$ .

37. Fie funcțiile  $f: \mathbb{R} \rightarrow \mathbb{R}$ ,  $f(x) = ax + b$  și  $g(x) = bx + a$ ,  $g: \mathbb{R} \rightarrow \mathbb{R}$ . Trasați graficul funcției  $g(x)$ , știind că punctele  $A(-1; -5)$  și  $B(2; 1)$  se găsesc pe graficul funcției  $f(x)$ .

38. Fie funcția  $f: \mathbb{R} \rightarrow \mathbb{R}$ ,  $f(x) = (m - 3)x + 2n + 1$ . Determinați valorile lui  $m$  și  $n$  pentru care graficul funcției conține punctele  $A(-1; 2)$  și  $B(2; 5)$ .

39. Fie funcția  $f: \mathbb{R} \rightarrow \mathbb{R}$ ,  $f(x) = x + 3$ .

a) Dacă  $A(0; a)$  și  $B(b; 0)$  sunt puncte pe graficul funcției, determinați numerele reale  $a$  și  $b$ .

b) Reprezentați grafic funcția.

c) Dacă  $C$  este simetricul lui  $B$  față de axa ordonatelor, arătați că distanța de la  $C$  la graficul funcției este segmentul  $[CA]$ .

40. Se consideră funcțiile  $f: \mathbb{R} \rightarrow \mathbb{R}$ ,  $f(x) = x + 2$  și  $g: \mathbb{R} \rightarrow \mathbb{R}$ ,  $g(x) = 2x + 3$ .

a) Trasați graficele celor două funcții în același sistem de axe de coordonate și aflați coordonatele punctului de intersecție dintre cele două grafice.

b) Calculați suma  $S = g(1) + g(2) + \dots + g(50) - f(1) - f(2) - \dots - f(50)$ .

41. Fie funcțiile  $f: [-2; 4] \rightarrow \mathbb{R}$ ,  $f(x) = -x + 3$  și  $g: (-3; 3] \rightarrow \mathbb{R}$ ,  $g(x) = x - 1$ .

a) Trasați graficele celor două funcții în același sistem de axe de coordonate.

b) Determinați coordonatele punctului de intersecție a celor două grafice.

42. Determinați  $a$ ,  $b$ , știind că punctul  $M(2; 5)$  este punctul de intersecție a graficelor funcțiilor  $f: \mathbb{R} \rightarrow \mathbb{R}$  și  $g: \mathbb{R} \rightarrow \mathbb{R}$  în fiecare dintre cazurile:

a)  $f(x) = ax - 1$  și  $g(x) = -x + b$ ;

b)  $f(x) = ax + a - 1$  și  $g(x) = (b - 2)x + b$ ;

c)  $f(x) = ax - (a - 1)$  și  $g(x) = (b + 4)x + b$ .

43. Stabiliți dacă există  $a \in \mathbb{R}$ , astfel încât punctul  $A(-3; -7)$  reprezintă intersecția graficelor funcțiilor  $f: \mathbb{R} \rightarrow \mathbb{R}$  și  $g: \mathbb{R} \rightarrow \mathbb{R}$  în fiecare dintre cazurile:

a)  $f(x) = (a - 1)x - 1$  și  $g(x) = ax + 2$ ;

b)  $f(x) = (a + 3)x + a$  și  $g(x) = (a + 5)x + 5$ ;

c)  $f(x) = (2a - 1)x + a$  și  $g(x) = (3a - 2)x + 5$ .

44. Determinați numerele reale  $a$  și  $b$  pentru care punctul de intersecție a graficelor funcțiilor  $f: \mathbb{R} \rightarrow \mathbb{R}$  și  $g: \mathbb{R} \rightarrow \mathbb{R}$  este  $M(a + 1; 2b - 3)$  în fiecare dintre cazurile:

a)  $f(x) = x + 5$  și  $g(x) = 2x + 1$ ;

b)  $f(x) = -2x + 3$  și  $g(x) = -3x + 4$ ;

c)  $f(x) = x + 7$  și  $g(x) = -3x - 1$ .

45. Determinați numerele reale  $m$  și  $n$  pentru care  $f: \mathbb{R} \rightarrow \mathbb{R}$  și  $g: \mathbb{R} \rightarrow \mathbb{R}$  sunt funcții egale în fiecare dintre cazurile:

a)  $f(x) = -3x + 7$  și  $g(x) = (2 - m)x + n + 4$ ;

b)  $f(x) = -2x + 2n + 3$  și  $g(x) = (3m + 4)x + 5$ ;

c)  $f(x) = (m + 1)x + (2n + 1)$  și  $g(x) = (4m - 2)x + 3n - 1$ .

46. Determinați valorile reale ale lui  $m$  și  $n$  pentru care reprezentările grafice ale funcțiilor  $f: \mathbb{R} \rightarrow \mathbb{R}$  și  $g: \mathbb{R} \rightarrow \mathbb{R}$  au cel puțin două puncte distincte comune în fiecare dintre cazurile:

a)  $f(x) = 5x - 7$  și  $g(x) = (2m + 1)x - (2n + 1)$ ;

b)  $f(x) = (2m - 1)x + 3$  și  $g(x) = 5x + 4n - 5$ ;

c)  $f(x) = (3m + 2)x + 3n - 7$  și  $g(x) = (4m + 3)x + 4n - 9$ ;

d)  $f(x) = (2n + m)x + 2m + 3$  și  $g(x) = (n - 1)x + (2m - 3n)$ .