



ȘI TU POTI SĂ FII CAMPION LA MATEMATICĂ!



1. Colorează trei stegulețe.



RĂSPUNS

1. 😊 😐

2. 😊 😐

3. 😊 😐

4. 😊 😐

5. 😊 😐

6. 😊 😐

/6

Total

2. Câte steluțe sunt în total?
Scrie răspunsul în căsuță.




steluțe

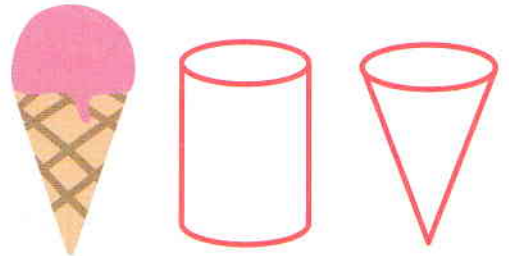
3. Privește cu atenție seria logică.
Cu care dintre cele două figuri
geometrice de mai jos trebuie
completat șirul? Încercuiește-o
pe cea potrivită!



4. Colorează animalul mai mic.




5. Care figură geometrică are
aceeași formă cu cornetul
de înghețată? Încercuiește-o!



6. Desenează 4 petale pentru
această floare.



1. Colorează acvariul care conține cei mai mulți pești.



4. Cât de lung este acest băț?



Bățul este lung cât


dreptunghiuri.

2. Câte mere sunt în total?
Scrie răspunsul în căsuță.




mere


5. Mai jos este un triunghi / un cerc. Taie cu o linie răspunsul greșit.



3. Privește cu atenție seria logică.
Cu ce culoare ar trebui să colorezi ultima biluță?



6. Câte inimi sunt în total?
Scrie răspunsul în căsuță.



inimi

RĂSPUNS

1. 😊 😐

2. 😊 😐

3. 😊 😐

4. 😊 😐


5. 😊 😐

6. 😊 😐

/6

Total

1. Are fiecare iepuraș morcovul său? Încercuiește răspunsul corect. DA NU



RĂSPUNS

1. ☺ ☹

2. ☺ ☹


3. ☺ ☹

4. ☺ ☹

5. ☺ ☹

6. ☺ ☹

2. Câte baloane sunt în total? Scrie răspunsul în căsuță.



baloane

3. Privește cu atenție seria logică. Cu care dintre cele două pătrate de mai jos trebuie completat șirul? Încercuiește-l pe cel potrivit!



sau

4. Ce zi urmează după luni?

vineri

marți

5. Rățușca stă pe etajera de



Încercuiește răspunsul corect.
SUS / LA MIJLOC / JOS

6. Max a primit de la mama sa doi biscuiți. Fratele lui mai mic i-a mai dat unul. Câți biscuiți are Max în total? Scrie răspunsul în căsuță.



biscuiți

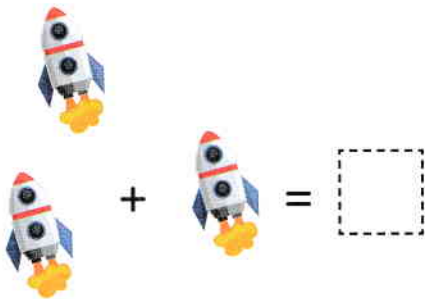
1. Desenează câte un cerculeț pentru fiecare ardei. Apoi spune cu glas tare câți ardei sunt.




4. Ce obiect alegi dacă vrei să te cântărești? Încercuiește imaginea potrivită.



2. Efectuează calculul și scrie rezultatul în căsuță.




5. Această figură este rotundă / dreptunghiulară. Taie cu o linie răspunsul greșit.



3. Privește cu atenție seria logică. Cu care dintre cele două pătrățele de mai jos trebuie completat șirul? Încercuiește-l pe cel potrivit!



6. Numără bulinele, apoi spune ce trebuie să faci pentru a fi 7 în total. Elimini (tai cu o linie) sau adaugi (mai desenezi alte buline)?



RĂSPUNS

1. 😊 😐

2. 😊 😐

3. 😊 😐

4. 😊 😐


5. 😊 😐

6. 😊 😐


/6

Total

1. Colorează patru mere.



4. Care obiect este mai greu?
Încercuiește imaginea potrivită.



RĂSPUNS

1. 😊 😐

2. 😊 😐

3. 😊 😐

4. 😊 😐

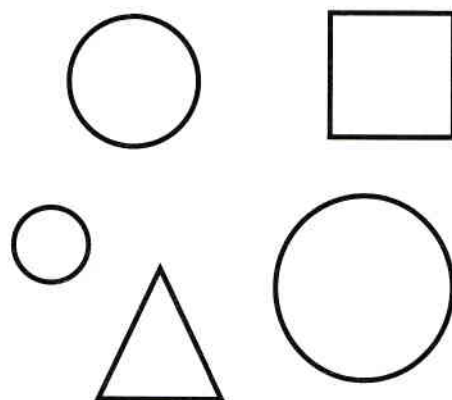
5. 😊 😐

6. 😊 😐

2. Efectuează adunarea!
Scrie răspunsul în căsuță.



5. Colorează formele rotunde.



3. Privește seria logică, apoi completează căsuța cu numărul corespunzător.

1 2 1 2 1

6. Matei are două acvarii.
Fiecare conține câte doi pești.
Câți pești sunt în total?
Scrie răspunsul în căsuță.



pești