




ADUNAREA

Leo are 8 roboți, iar Tom are 4 roboți.
Câți roboți au ei în total?




→ Aflăm totalul roboților.
Trebuie să facem o **ADUNARE**.

$$\begin{array}{r} 8 + \\ 4 \\ \hline 12 \end{array}$$

Ei au 12 roboți.

ACUM E RÂNDUL TĂU!


1. Mia a cumpărat de la piață 8 mere, 2 ananași și 3 banane.
Câte fructe a cumpărat Mia?



2. La cantina școlii mănâncă zilnic 24 de elevi din clasa I și 26 de elevi din clasa a II-a.
Câți copii mănâncă la cantină?



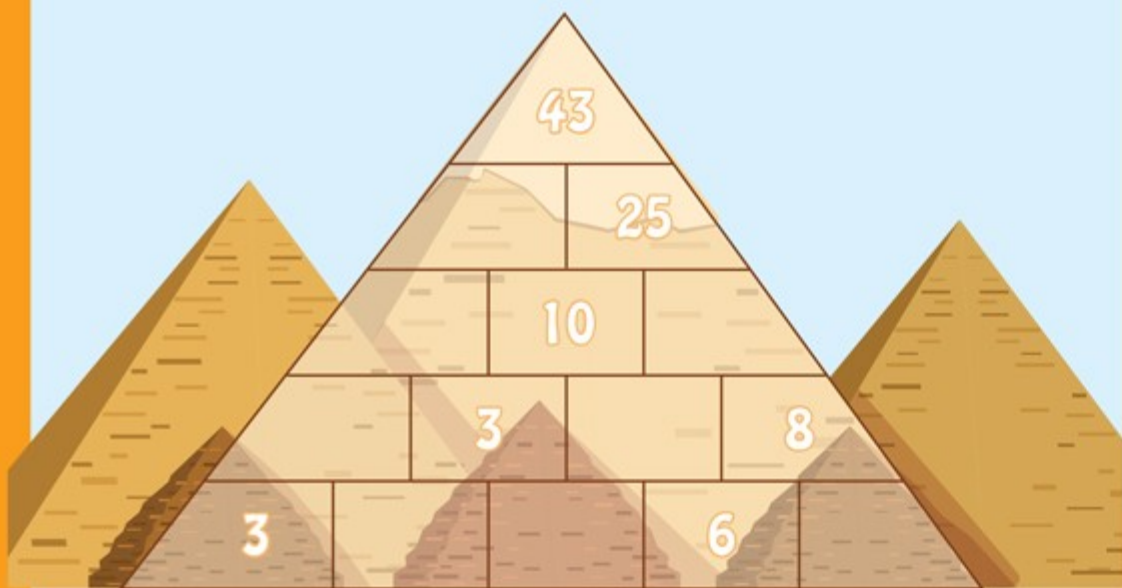
3. Grădinarul a plantat în parc 37 de lalele și 22 de zambile.
Câte flori a plantat în total?



CĂSUȚE GOALE

ENIGMA 1

CA SĂ AJUNGI ÎN VÂRFUL PIRAMIDEI, TREBUIE SĂ ADUNI
CÂTE DOUĂ NUMERE DE DEDESUBT.
ACUM E RÂNDUL TĂU!












ENIGMA 2

COMPLETEAZĂ CAREUL
FOLOSIND DESENELE.



Atenție, același desen trebuie
să fie o singură dată pe
aceeași linie, pe aceeași
coloană și în același pătrat!

COMPLETEAZĂ CAREUL CU
CIFRE DE LA 1 LA 4.

Atenție, aceeași cifră trebuie
să fie o singură dată pe
aceeași linie, pe aceeași
coloană și în același pătrat!

ENIGMA 3

2		4	
	4		
		3	
	3		1