



ADUNAREA

De Ziua Mamei, Lucas i-a oferit mamei sale un buchet cu 3 lalele roz și 4 lalele galbene.
Câte lalele a oferit Lucas?



→ Căutăm să aflăm totalul lalelelor oferite pentru Ziua Mamei.
Trebuie să facem o **ADUNARE**.

$$3 + 4 = 7$$

Lucas i-a oferit mamei sale 7 lalele.

ACUM E RÂNDUL TĂU!

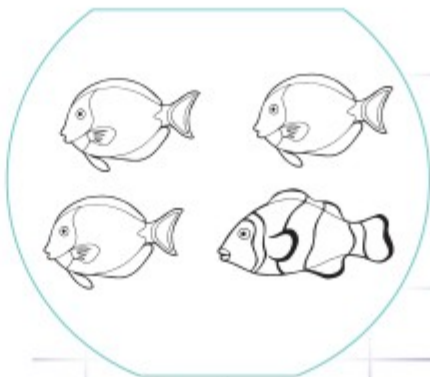
1. Ioana a cules 5 mere roșii și Iona 4 mere verzi.
Câte mere au fetele în total?



2. Yanis are în bombonieră **8 bomboane albastre** și **2 bomboane roșii**.
Câte bomboane are Yanis?



3. Tom are **3 pești roșii** și **1 pește galben**.
Câți pești are Tom?
Colorează peștii conform enunțului.

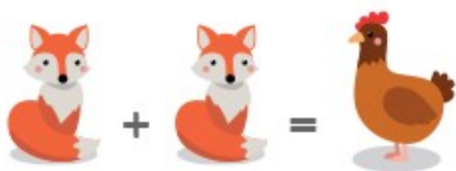


CALCULE CU ANIMALE

ENIGMA 1

GĂSEȘTE VALOAREA FIECĂRUI ANIMAL
PENTRU CA OPERAȚIILE SĂ FIE CORECTE.

E RÂNDUL TĂU!


$$\text{fox} + \text{fox} = \text{chicken}$$



$$\text{chicken} = 2$$


$$\text{chicken} + \text{chicken} + \text{fox} = \text{sheep}$$


$$\text{sheep} = \dots$$


$$\text{pig} + \text{chicken} = \text{sheep}$$


$$\text{fox} = \dots$$


$$\text{pig} = \dots$$


$$\text{pig} + \text{fox} = \text{dog}$$


$$\text{dog} = \dots$$

ENIGMA 2

ÎN ACVARIU SUNT 14 PEȘTI ÎN TOTAL.
CĂȚI PEȘTI SUNT ASCUNȘI ÎN SPATELE ALGELOR?



ENIGMA 3

LUI COCO ÎI TREBUIE 5 MINUTE CA SĂ AJUNGĂ LA AMICUL SĂU POLO.
CĂTE MINUTE ÎI TREBUIE CA SĂ FACĂ DRUMUL DUS-ÎNTORS?

