

Libris **TESTE PENTRU**  
Respect pentru oameni și cărți

# EVALUAREA NAȚIONALĂ

Mirela Mihăescu • Ștefan Pacearcă  
Anița Dulman • Crenguța Alexe • Otilia Brebenel

**MATEMATICĂ ȘI EXPLORAREA MEDIULUI – clasa a II-a**



Hai și tu pe [scoalaintuitext.ro](http://scoalaintuitext.ro)!












**Editura INTUITEXT**

 **intuitext**  
grup SOFTWIN

## CUPRINS

Psst! Am un secret  
pentru tine!  
Eu sunt Cromin și vreau  
să mă ajuți să dezlegăm  
misterele din  
[www.scoalaintuitext.ro!](http://www.scoalaintuitext.ro)



	Testul 1 .....	5
	Testul 2 .....	9
	Testul 3 .....	13
	Testul 4 .....	17
	Testul 5 .....	21
	Testul 6 .....	25
	Testul 7 .....	29
	Testul 8 .....	33
	Testul 9 .....	37
	Testul 10 .....	41
	Testul 11 .....	45
	Rezolvări teste .....	49





Elevii clasei a doua au mers la magazinul de instrumente muzicale împreună cu profesorul de muzică. Ei vor să achiziționeze instrumente muzicale pentru orchestra școlii.



460 lei



525 lei



118 lei



645 lei

1 Care este ordinea crescătoare a instrumentelor, în funcție de prețul lor?  
**Încercuiește litera corespunzătoare răspunsului corect.**

- a) nai, flaut, toboșă, vioară
- b) vioară, nai, toboșă, flaut
- c) flaut, nai, vioară, toboșă
- d) flaut, nai, toboșă, vioară

2 Ce instrument muzical poate cumpăra Vlad dacă are bancnota din imagine?  
**Încercuiește litera corespunzătoare răspunsului corect.**

- a) nai
- b) toboșă
- c) flaut
- d) vioară



3 Care dintre operațiile de mai jos trebuie efectuată pentru a afla cât costă împreună o vioară și un flaut?  
**Încercuiește litera corespunzătoare răspunsului corect.**

- a)  $645 - 118$
- b)  $525 + 118$
- c)  $645 + 118$
- d)  $460 + 118$



4

Bunicii i-au dat Ioanei 500 lei. De câți lei mai are nevoie fetița pentru a cumpăra toba?

**Încercuiește litera corespunzătoare răspunsului corect.**

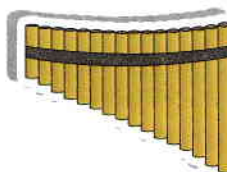
- a) 125 lei
- b) 25 lei
- c) 100 lei
- d) 525 lei

5

Care este corpul geometric care are aceeași formă ca și tuburile naiului?

**Încercuiește litera corespunzătoare răspunsului corect.**

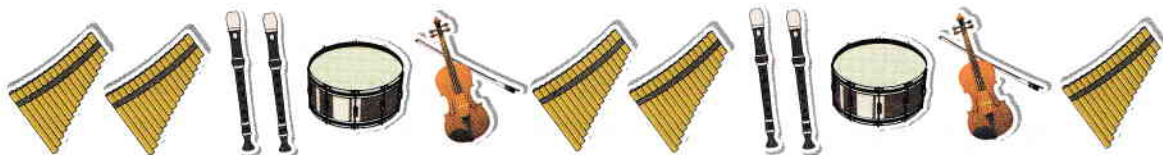
- a) cub
- b) con
- c) cuboid
- d) cilindru



6

Pe raftul magazinului, instrumentele sunt așezate ca în imaginea de mai jos.

**Observă modelul și completează propoziția de sub imagine.**



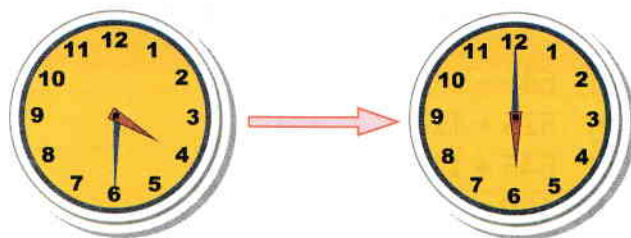
Următorul instrument în șir este \_\_\_\_\_.

7

Cât timp repetă într-o zi copiii, dacă se întâlnesc la ora 16 : 30 și pleacă acasă la ora 18 : 00?

**Încercuiește litera corespunzătoare răspunsului corect.**

- a) 1 oră și 30 minute
- b) 2 ore și 30 minute
- c) 30 minute
- d) 3 ore și 30 minute





8. Împreună cu profesorul de muzică, elevii au stabilit că se vor întâlni pentru repetiții de 3 ori pe săptămână: luni, miercuri și vineri. Observă calendarul și descoperă de câte ori se vor întâlni copiii în luna mai.

**Încercuiește litera corespunzătoare răspunsului corect.**

- a) de 12 ori
- b) de 13 ori
- c) de 4 ori
- d) de 8 ori



9. Observă corpurile din imagini și alege-le doar pe cele care nu lasă curentul să treacă prin ele.

**Încercuiește litera corespunzătoare răspunsului corect.**

- a) 1, 4, 6
- b) 2, 3, 5
- c) 1, 4, 5
- d) 2, 3, 4



1



2



3



4



5



6

10. Observă sumele de bani pe care le are fiecare dintre cei 4 copii. Cine poate să cumpere o vioară?

**Încercuiește litera corespunzătoare răspunsului corect.**

Delia				
Matei				
Magda				
Patrick				

- a) Delia
- b) Matei
- c) Magda
- d) Patrick







Elevii clasei a doua au mers în vizită la supermarket pentru realizarea proiectului *La cumpărături*. Au aflat că, în dimineața vizitei, s-au adus legume, astfel:



1 Care este ordinea crescătoare a legumelor, în funcție de cantitatea adusă?  
**Încercuiește litera corespunzătoare răspunsului corect.**

- a) roșii, morcovi, ridichi, vinete, ardei
- b) ridichi, roșii, castraveți, morcovi, vinete
- c) ridichi, castraveți, morcovi, vinete, roșii
- d) roșii, vinete, morcovi, castraveți, ridichi

2 Care cantitate de legume cântărește mai puțin de 100 kg?  
**Încercuiește litera corespunzătoare răspunsului corect.**

- a) roșii
- b) ridichi
- c) castraveți
- d) morcovi

3 Cosmin spune că este mai mare cantitatea de castraveți decât cantitatea de morcovi adusă.  
**Scrie, pe spațiul dat, semnul potrivit (<, >, =) între cantitatea de castraveți adusă și cea de morcovi, pentru a arăta dacă are dreptate Cosmin.**

158  185

4 Care dintre operațiile de mai jos trebuie efectuată pentru a afla câte kilograme de morcovi și ridichi s-au adus, în total?

**Încercuiește litera corespunzătoare răspunsului corect.**

- a)  $185 - 95$
- b)  $185 + 95$
- c)  $158 - 95$
- d)  $95 + 158$

5 Câte kilograme de vinete ar mai fi trebuit aduse, astfel încât cantitatea de vinete să fie egală cu cea de roșii?

**Încercuiește litera corespunzătoare răspunsului corect.**

- a) 34 kg
- b) 126 kg
- c) 442 kg
- d) 26 kg

6 Corina le spune colegilor că familia ei consumă zilnic 2 kilograme de legume. Care este operația ce trebuie efectuată pentru a afla câte kilograme de legume consumă, într-o săptămână, familia Corinei?

**Încercuiește litera corespunzătoare răspunsului corect.**

- a)  $7 - 2$
- b)  $2 + 7$
- c)  $7 \times 2$
- d)  $7 : 2$

7 Pentru a ne păstra sănătatea, trebuie să evităm consumul în cantități mari a anumitor alimente. Care sunt alimentele pe care trebuie să le consumăm rar, în cantități mici?

**Încercuiește litera corespunzătoare răspunsului corect.**

- a) 1, 5
- b) 2, 3
- c) 6, 4
- d) 1, 3



1



2



3



4



5




6



8 Care este ordinea corectă a simbolurilor ce ilustrează etapele de creștere a plantei?

**Încercuiește litera corespunzătoare răspunsului corect.**



- a) ■ ● □ ○ ▲  
 b) □ ■ ○ ● ▲  
 c) ● ○ ▲ □ ■  
 d) ● ▲ ■ □ ○

9 Colegii lui Cosmin au notat, în graficul de mai jos, care este leguma preferată de fiecare. Care este leguma preferată de cei mai mulți copii?

**Scrie, în spațiul dat, răspunsul corect.**

	○ ○ ○ ○ ○
	○ ○ ○ ○
	○ ○ ○ ○ ○ ○
	○ ○ ○ ○
	○ ○ ○ ○ ○ ○ ○ ○ ○ ○

Leguma preferată de cei mai mulți dintre copii este \_\_\_\_\_.

10 Luca le vorbește colegilor despre condițiile de care au nevoie plantele pentru a se dezvolta. El le spune că plantele au nevoie de: **aer, sol hrănitor, lumină, semințe, căldură, apă**. În enumerarea lui s-a strecurat un intrus. Care este acesta?

**Încercuiește litera corespunzătoare intrusului.**

- a) lumină  
 b) sol hrănitor  
 c) semințe  
 d) căldură

