

Comunicare în limba română



Fetița care nu voia să crească

adaptare după Paul Éluard



(1)

A fost odată ca niciodată o fetiță veselă căreia mama îi pusese numele Carolina. Avea o păpușă foarte mică, dar foarte frumoasă, ce închidea și deschidea ochii, și un câine mare, pe care putea să-l necăjească fără ca el să fie vreodată supărat.

Într-o zi, în timpul vacanței de vară, Carolina și mama ei au mers la cinema să vadă un film de desene animate. Nu știau ce să aleagă: „Cenușăreasa” sau „Frumoasa din pădurea adormită”? În cele din urmă, au mers la „Cenușăreasa”. Dar, înainte ca filmul să înceapă, pe ecran s-au derulat imagini cu știri din viața reală, care au speriat-o pe fetiță. Realitatea părea prea crudă pentru ea. Din ziua aceea, Carolina s-a schimbat. Mama sa n-o mai recunoștea.

Temp de câteva săptămâni, Carolina și-a abandonat păpușica ce stătea cu ochii închiși în pătuțul ei. În zadar sărea câinele împrejur, fetița îl mângâia *distrată* și el pleca să se culce în colțisorul lui.

Fu chemat doctorul, care, după ce o examină îndelung, spuse că nu este bolnavă, ci trebuie doar să i se acorde mai multă atenție. Dar, atunci când mama ei, îngrijorată, o întreba ce-și dorește, Carolina răspundea:

— Nu vreau să cresc, nu vreau să cresc!

Nimeni nu înțelegea; de obicei, toate fetițele vor să se facă mari. Nimeni nu înțelegea că fetei îi era teamă de lumea dură a oamenilor mari. Ea dorea să se refugieze în grădina fericită a copilăriei ei.

(continuarea textului la pagina 6)



VOCABULAR

- *se derulau imagini* = veneau imagini una după alta;
- *a abandona* = a părăsi, (aici) a lăsa deoparte;
- *distrată* = neatență, cu gândul în altă parte;
- *a se refugia* = a se retrage.



Exerciții

1 Marchează cu „X” caseta corespunzătoare răspunsului corect:

• Numele fetiței din poveste este:

- Carolina
- Carla
- Coralina

• Fetița avea:

- o păpușă și un miel
- o jucărie de pluș și un câine
- o păpușă și un câine



- În timpul vacanței de vară, mama a dus-o la:
 - țară
 - cinematograful
 - teatru
- Înainte de film, pe ecran s-au derulat:
 - informații sportive
 - desene animate
 - știrile

2 Răspunde la întrebări:

- Ce a spus doctorul după ce a consultat fetița?

- Care era dorința Carolinei?

- De ce nu dorea ea să crească?

3 Completează textul cu semnele de punctuație potrivite:

Într-o dimineață câinele veni la patul Carolinei și începu să latre



Ham ham

Vrei să vin cu tine la joacă

Ham

Bine Așteaptă-mă afară Mă pregătesc imediat și mergem în pădure

4 Alcătuieste enunțuri despre păpușa Carolinei, care să exprime:

- o constatare _____
- o întrebare _____
- o exclamare _____

5 Încercuiește vocalele din propoziția:

Din ziua aceea, Carolina s-a schimbat.



6 Completează enunțurile cu: s-au / sau

- Carolina a mers la cinematograful să vadă „Cenușăreasa” _____ „Frumoasa din pădurea adormită”.
- Pe ecran _____ derulat imagini care au speriat-o.
- Fetiței îi plăcea să se joace cu păpușa _____ cu câinele.



- 7 Și prietenul Carolinei, Marc, s-a îmbolnăvit, dar are doar o simplă răceală. Scrie, pe spațiul dat, un scurt text pornind de la șirul de imagini de mai jos.



NU UITA:

- să dai un titlu potrivit textului;
- să formulezi propoziții clare și complete;
- să folosești corect semnele de punctuație;
- să așezi corect textul în pagină.



Unde mergem în vacanță?

SALINA TURDA

O călătorie spre centrul Pământului

Dacă te încumeți să pătrunzi în miezul Pământului, vei descoperi în Salina Turda, din județul Cluj, un adevărat labirint subteran, alcătuit numai din sare. După ce vei coborî 13 etaje cu un lift cu pereții din sticlă, vei ajunge în inima salinei, la o adâncime de peste 100 de metri! Aici vei putea vizita mai multe galerii și mine, fiecare unice în felul ei. În Sala Ecourilor, vei face „probe de microfon”, pentru că aici acustica este foarte bună, în Mina Ghizela vei admira stalactite de sare și pereți întregi cu cristale, iar în Mina Terezia vei vedea o „cascadă” de sare și te vei plimba cu barca pe un lac. Nu-ți face griji dacă nu știi să înoți, pentru că sarea din apa lacului este vesta ta de salvare. Aici, apa este atât de sărată încât, și dacă vrei, nu te vei putea scufunda.

Trebuie să știi că Salina Turda nu este doar muzeu, ci și un loc de tratament pentru diverse afecțiuni. Astfel, după vizitarea salinei, te vei simți mai sănătos și vei avea mai multă energie.



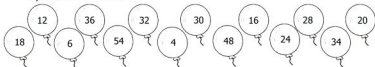


FIȘA nr. 2

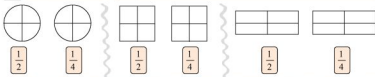


1 Colorează conform indicațiilor:

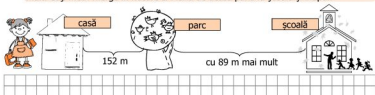
- cu roșu baloanele pe care sunt scrise numere care se împart exact și la 4, și la 6.
- cu galben baloanele care se împart exact numai la 4 și cu verde baloanele care se împart exact numai la 6.



2 Colorează în fiecare figură partea indicată.



3 De acasă până în parc sunt 152 m, iar de la parc până la școală sunt cu 89 m mai mult. Câți metri merge în fiecare zi Maria de acasă până la școală și înapoi?



4 Încercuiește răspunsul corect:

1) Exercițiul la care se obține cel mai mare rezultat este:

A. $95 + 36 =$ B. $156 - 49 =$

C. $876 - 619 =$ D. $143 + 198 =$

2) Scris cu cifre, numărul șase sute trei este:

A. 306 B. 613 C. 603 D. 630

3) În șirul 357, 359, 361, 363, ..., următorul termen are suma cifrelor egală cu:

A. 14 B. 10 C. 13 D. 15



FIȘA nr. 4




1 Completează casetele cu numerele potrivite:

$\square : 6 = 9$

$72 : \square = 8$

$7 \times \square = 56$

2 Privește următoare figură, apoi calculează:



- a) suma tuturor numerelor din interiorul dreptunghiului →
- b) suma tuturor numerelor care sunt și în interiorul cercului și al pătratului →

3 Încercuiește răspunsul corect.





Pământul  seamănă cu:

- a) un cub b) un cilindru c) un con d) o sferă

Un vulcan  seamănă cu:

- a) un cub b) un cilindru c) un con d) o sferă

Trei sferturi din suprafața Pământului sunt acoperite de apă, iar un sfert de uscat. Ce desen reprezintă suprafața acoperită de uscat (partea hașurată)?


- a)  b)  c)  d) 

4 Privește desenul alăturat și completează tabelul cu numărul de figuri geometrice indicate.

			
<input type="text"/>	<input type="text"/>	<input type="text"/>	<input type="text"/>

a) Află diferența dintre numărul triunghiurilor și cel al pătratelor.

b) Calculează jumătate din numărul cercurilor.



5. Veverițele fac provizii de alune pentru a avea hrană pe timpul iernii. Calculează câte alune a strâns fiecare veveriță.



a) $8 \times 3 : 6 = \square \square$



b) $63 : 9 \times 8 = \square \square$



c) $64 : 8 \times 9 = \square \square$

6. Și oamenii au nevoie de hrană pentru a crește și a se dezvolta. Pentru a face pâine, bucătarul trebuie să frământă aluatul un sfert de oră și apoi să-l lase la crescut o jumătate de oră, înainte de a pune pâinea la copt. Dacă s-a apucat de frământat la ora 10⁰⁰, la ce oră va pune pâinea la copt?

Desenează pe ceas acele pentru a indica ora aflată.



7. Colorează cu maro jumătate din prima tableță de ciocolată și un sfert din a doua. Completează casele:



a) $\frac{1}{2}$ de tableță = \square bucăți



b) $\frac{1}{4}$ de tableță = \square bucăți

micul bucătar

„DELICIU CU BANANE”

ai nevoie de:

- o banană;
- iaurt (sau smântână);
- miere.

Rețeta este foarte sănătoasă, fiind compusă numai din ingrediente naturale.

cum se face:

- taie o banană în felii subțiri;
- așază banana într-o farfuriuță;
- adaugă peste ea câteva lingurițe de iaurt (sau smântână) și miere.



Cum ai lucrat?
AUTOEVALUEAZĂ-TE!



Foarte bine!



Bine!



Puteam mai bine!

