

FIȘE de RECAPITULARE și EVALUARE FINALĂ

clasa a IV-a

- limba română
- matematică
- științe ale naturii
- istorie
- geografie
- educație civică



Acest caiet aparține elevei / elevului:

.....

Cuprins

LIMBA ROMÂNĂ	3
MATEMATICĂ	17
ȘTIINȚE ALE NATURII	32
ISTORIE	36
GEOGRAFIE	40
EDUCAȚIE CIVICĂ	44

Auxiliar didactic realizat în conformitate cu programa școlară în vigoare, avizată de Ministerul Educației Naționale prin ordinul nr. 5003/2014.

Descrierea CIP a Bibliotecii Naționale a României

DAMIAN, ARINA

Fișe de recapitulare și evaluare finală : clasa a IV-a : limba română, matematică, științe ale naturii, istorie, geografie, educație civică / Arina Damian, Amalia Epure, Cristina Martin. -

Bascov : Elicart, 2021

ISBN 978-606-768-280-9

I. Epure, Amalia

II. Martin, Cristina

37

Copyright © Editura Elicart – 2021. Toate drepturile aparțin Editurii Elicart.

Conținutul acestei cărți este protejat de legea drepturilor de proprietate intelectuală. Nicio parte din acest volum nu poate fi copiată fără acordul scris al Editurii ELICART.

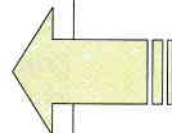
Pentru COMENZI vă puteți adresa la:

telefon: 0727.304.880; 0770.508.511
0747.584.029; 0774.607.024

e-mail: editura_elicart@yahoo.com

site: www.edituraelicart.ro





Fișa nr. 1

Citește cu atenție textul:

Călătorie în timp


de Natașa Galche

Într-o zi, l-am întrebat pe colegul meu, Darius:

— Dacă ar fi să descoperi o mașină a timpului cu ajutorul căreia ai putea să călătorești oriunde în timp, în ce perioadă istorică te-ai întoarce?

Întrebarea mea l-a pus pe gânduri.

Trebuie să vă spun că de când am început să studiem istoria la școală am devenit pasionat de această materie. Mi se pare de-a dreptul fascinant să citești despre trecutul omenirii, să descoperi obiceiurile, portul și ocupațiile popoarelor care au trăit cu mult timp în urmă. Mi-aș dori ca măcar o dată în viață să fiu martorul unui eveniment istoric sau să mă întâlnesc personal cu unul dintre marii conducători ai lumii. O mașină a timpului mi-ar îndeplini acest vis! Mi-aș alege să călătoresc în perioada în care a trăit navigatorul Cristofor Columb și să fac parte din echipajul care a ajuns pe țărmul Americii acum mai bine de 1 500 de ani.



Dacă aș pleca în această călătorie, nu m-aș duce însă cu mâna goală. Aș lua cu mine câteva lucruri, printre care o tabletă sau un telefon mobil. Vă închipuiți cât de uimiți ar fi oamenii acelor vremuri când ar vedea pe micul ecran fel de fel de imagini în mișcare! Sau când le-aș arăta camera foto, chibritul ori guma de mestecat, lucruri simple, dar care s-au inventat secole mai târziu. Mi-ar plăcea să văd reacția lui Cristofor Columb când i-aș spune că oamenii au călătorit în spațiul cosmic și au pus piciorul pe Lună!

Darius m-a întrerupt din visare:

— Vlăduț, eu aș vrea să mă întorc în timp și să-l cunosc pe Decebal, regele Daciei! Îmbrăcat în portul strămoșilor noștri, cu opinci în picioare, cu o căciulă țuguiată trasă pe frunte, cu sabia scurtă și încovoiată la brâu, aș putea participa la una dintre bătăliile împotriva romanilor. Astfel, aș auzi cu urechile mele strategiile de luptă puse la cale de iscusitul rege dac.

— Dar dacă am călători în viitor, oare ce am descoperi? m-am întrebat eu, lăsându-mi imaginația să zboare. Cum crezi că vor arăta așezările umane peste 200 de ani? Eu îmi închipui orașe imense, cu clădiri ale căror acoperișuri depășesc norii, cu oameni care se deplasează dintr-un colț al planetei în celălalt doar în câteva secunde, prin *teleportare*¹. Nu cred că locuitorii acestei planete vor mai vorbi între ei folosind cuvinte, ci vor comunica prin *telepatie*², citindu-și gândurile unul altuia. Pesemne, telefoanele vor deveni inutile!

— Eu cred că nu vor mai exista boli și oamenii vor deveni nemuritori! a continuat Darius, imaginându-și și el viitorul.

— Dacă omul ar fi nemuritor, s-ar plictisi. Cred că viața pe care o avem acum este mai captivantă! Și, după cum vezi, nu avem nevoie de o mașină a timpului pentru a călători în trecut sau în viitor. Cu ajutorul imaginației noastre am traversat câteva veacuri într-o clipă! am spus eu, foarte convingător.



DICȚIONAR. (1) *teleportare* = deplasare foarte rapidă dintr-un loc în altul;
(2) *telepatie* = capacitatea unor oameni de a-și transmite gândurile la distanță, fără a folosi organele de simț.

1 Încercuiește varianta corectă:

- Personajele textului sunt:
 - a) Vlăduț și colegul său, Darius b) Vlăduț, Darius, Cristofor Columb
 - c) Vlăduț, Darius, Cristofor Columb și Decebal
- Visul lui Vlăduț era:
 - a) să călătorească în viitor
 - b) să călătorească alături de Cristofor Columb, pe nava sa
 - c) să trăiască în perioada în care regele dac, Decebal, s-a luptat cu romanii
- În viitor, telefoanele vor deveni inutile, deoarece:
 - a) oamenii vor comunica prin telepatie, citindu-și gândurile unul altuia
 - b) vor fi inventate alte dispozitive de comunicare
 - c) oamenii nu vor mai comunica deloc unii cu alții



2 Apreciază cu A (adevărat) sau F (fals) comunicările următoare:

- La orele de istorie ai ocazia să studiezi trecutul omenirii, să afli obiceiurile, portul și ocupațiile popoarelor străvechi.
- Darius visează să poată lupta în războaiele daco-romane, alături de Decebal.
- Copiii își imaginează că în viitor oamenii călătoresc prin teleportare și comunică prin telepatie.

3 Pe baza textului citit, realizează portretul unui soldat dac. Pentru a adăuga elemente noi în descrierea ta, documentează-te și din enciclopedii sau de pe Internet.

4 Spune-ți părerea!

Pe tine ce epocă din trecut te fascinează și ai vrea s-o vizitezi?

Dacă ai putea călători în timp și ai putea schimba ceva, ce ai modifica?

5 Completează tabelul:

Respect pentru oameni și cărți

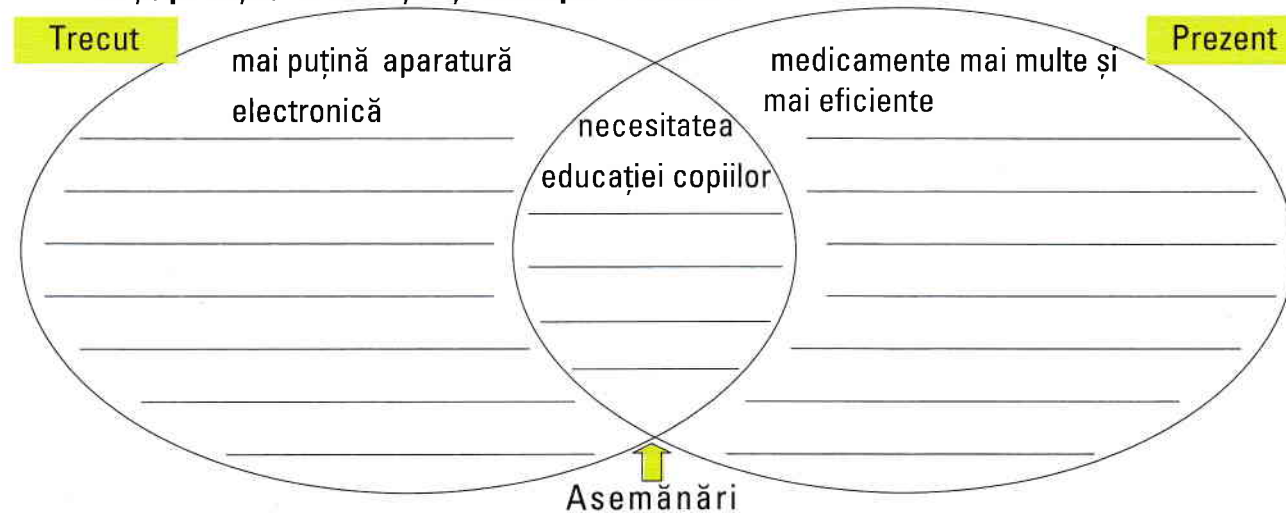
Povestește... cea mai fascinantă istorioară din trecut, aflată de la o rudă de-a ta	Describe... o persoană din viața ta pe care o admiri	Argumentează... de ce crezi că viața fără imaginație ar fi tristă

6 Completează Jurnalul cu dublă intrare.

Fragmentul care ți-a plăcut cel mai mult	Argumentează de ce l-ai ales

7 Transformă propoziția simplă **Călătorim în viitor.** **în propoziție dezvoltată.**

8 Desprinde câteva deosebiri și asemănări între prezent și trecut (descrie în filme, cărți, povești). Urmărește și exemplele noastre!



9 **Imaginează-ți că ești reporter și te întâlnești cu o personalitate din trecut pe care o admiri (exemplu: Albert Einstein, Constantin Brâncuși, Marie Curie, Mihai Eminescu). Alcătuieste un scurt dialog pe care l-ați purta.**



Întrebare: _____

Răspuns: _____



Întrebare: _____

Răspuns: _____



10 **Formează adjective pornind de la verbele următoare:**

Model: călătoresc → călător

inventez → _____ explic → _____

mă amuz → _____ răspund → _____

mă plictisesc → _____ studiez → _____

11 **Înlocuiește grupurile de cuvinte subliniate cu un verb și rescrie enunțurile.**

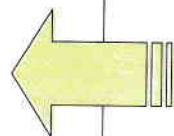
• Darius a luat-o la sănătoasa când a văzut oștirea romană apropiindu-se.

• Au făcut cale-ntoarsă amintindu-și că uitaseră un lucru important.

12 **Colorează cu albastru casetele care conțin cuvinte cu sens opus și cu roșu casetele care conțin cuvinte cu sens asemănător.**

dovezi	imense	s-a inventat	inutile	ocupații
probe	minuscule	s-a născocit	utile	îndeletniciri
imposibilă	strategii	mașinărie	iscusit	s-ar plictisi
posibilă	planuri	aparat	îndemânatic	s-ar amuza

Matematică



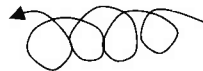
Fișa nr. 1

Numere naturale mai mici sau egale cu 1 000 000

Partea I **Marchează cu „x” caseta corespunzătoare răspunsului corect.**

- 1 În numărul 624 312, cifra 3 reprezintă ordinul:
 miilor sutelor zecilor unităților
- 2 Câte numere pare de forma $\overline{72\ 51a}$ se pot scrie?
 6 10 5 9
- 3 Care dintre numerele de mai jos este mai mare decât treisprezece mii două sute șase?
 13 270 10 326 13 026 13 205
- 4 Scris cu cifre arabe, numărul MCMLXIII este:
 1 173 1 963 1 913 963
- 5 Folosind cifrele romane I, X, C o singură dată, se poate scrie numărul:
 ICX XIC XCI IXC
- 6 Dacă așezăm în ordine crescătoare numerele 1 512, 793, 15 012, 5 112, 1 312, atunci al doilea număr va fi:
 1 512 1 312 5 112 15 012

Partea a II-a **Completează corespunzător:**



- 1 Scris cu cifre romane, anul în care ne aflăm este _____.
- 2 Succesorul impar al numărului 14 399 are cifra zecilor egală cu _____.
- 3 Există _____ numere pare cuprinse între 7 211 și 7 225.
- 4 Un număr care are cifra sutelor de mii 4 este _____.
- 5 Rotunjit la cifra miilor, numărul 63 750 este _____.



