

Caietul meu
de
VACANȚĂ
pentru
matematică și
explorarea mediului

clasa a II-a

1. Scrie cu litere:

7

15

23

59

99

2. Descoperă regula și continuă șirurile.

12, 22, 32,

11, 22, 33,

31, 29, 27,

95, 90, 85,

100, 90, 80,

1. Unește cu o linie operația de rezultatul corect.

$87 + 12$

13

$27 + 10$

79

$55 - 42$

78

$55 - 12$

43

$21 + 32$

46

$86 - 27$

34

$67 - 21$

10

$61 + 18$

7

$68 + 10$

99

$47 - 13$

37

$23 - 13$

53

$94 - 87$

59

2. Ordonează crescător numerele fiecărui șir.

52, 44, 81, 12, 47, 92, 60, 7, 59, 29, 73

34, 97, 43, 2, 58, 33, 40, 15, 6, 99, 55, 87

10, 50, 63, 94, 25, 57, 31, 54, 92, 100, 44

1. Unește fiecare animal de modul în care se înmulțește:

prin ouă



prin pui



Caută, decupează și lipește acest abțibild pe poster.



1. Bifează în tabel ce se consumă de la fiecare plantă.

PLANTĂ	RĂDĂCINĂ	TULPINĂ	FRUNZE	FLORI	FRUCTE	SEMINȚE
piersic						
țelină						
mazăre						
spanac						
tei						
mușetel						
cartof						
dovleac						
morcov						

2. Unește arborii de locul unde cresc.

PARC

LIVADĂ

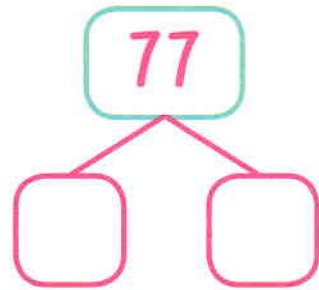
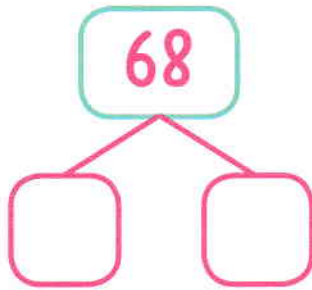
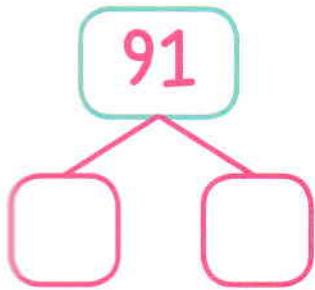
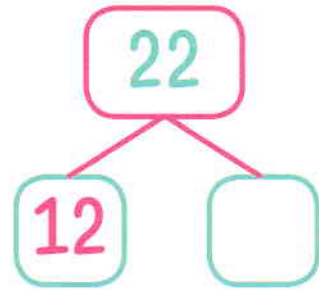
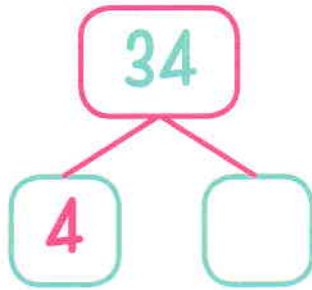
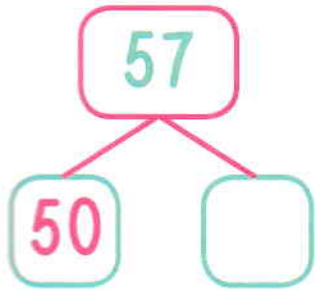
PĂDURE



Caută, decupează și lipește acest abțibild pe poster.






1. Completează casetele.

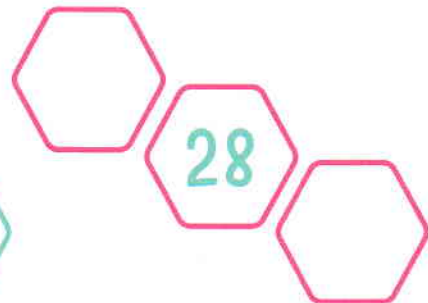
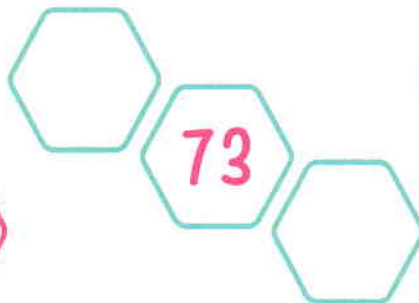



2. Scrie vecinii numerelor.

în ordine crescătoare



în ordine descrescătoare



1. Încercuiește numerele:

- mai mari decât 38:

2, 84, 36, 47, 52, 10, 94, 46, 25, 20, 73, 8

- mai mici decât 54:

15, 30, 94, 52, 47, 76, 17, 22, 53, 49, 99

- cuprinse între 13 și 44:

24, 74, 52, 41, 32, 30, 85, 54, 62, 29, 36

2. Calculează:

$28 + 16 = \square$

$15 + 20 = \square$

$39 - 12 = \square$

$97 - 30 = \square$

$10 + 40 = \square$

$24 - 18 = \square$

$41 - 13 = \square$

$46 + 40 = \square$

$22 + 34 = \square$

$71 - 34 = \square$

1. Rotunjește următoarele numere:

• la zeci

248	
-----	--

143	
-----	--

876	
-----	--

395	
-----	--

642	
-----	--

• la sute

126	
-----	--

338	
-----	--

894	
-----	--

257	
-----	--

469	
-----	--

2. Grupează animalele în tabel.

cangur, pisică, urs, rață, pinguin, tigru,
cal, koala, cerb, vulpe, găină, veveriță

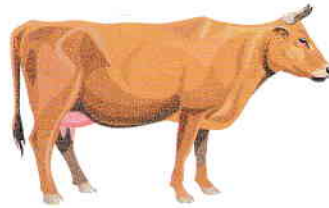
Animale domestice	Animale sălbatice din România	Animale sălbatice din lume



Caută, decupează și lipește acest abtibilă pe poster.



2. Unește animalul de denumirea puivului său.



boboc

miel

ied

mânz

godac

pui

vițel

2. Scie cât mai multe produse care se obțin de la următoarele animale:









1 Completează tabelul cu cât mai multe exemple de animale care:

Trăiesc în pădure		Au cioc	
Au labe		Au bot	
Au copite		Au rât	
Au gheare		Nasc pui vii	
Fac ouă		Mănâncă insecte	
Produc pagube		Sunt protejate prin lege	
Trăiesc în apă		Trăiesc la tropice	



Caută, decupează și lipește acest abțibild pe poster.



1. Află numerele:

- cu 7 mai mari decât: 24, 13, 57, 42.

- cu 15 mai mici decât: 81, 67, 34, 58.

- cu 23 mai mici decât: 67, 88, 92, 52.

2. Scrie toate numerele naturale de două și de trei cifre care se pot forma cu cifrele date și le conțin pe amândouă.

4 și 9

2 și 4

1 și 7

5 și 7

3 și 7

8 și 9

1 De ziua ei, mama lui Matei primește 7 buchete a câte 3 flori fiecare și unul special de la Matei, cu 5 flori. Câte flori a primit mama lui Matei?

Rezolvă în două moduri.

2 Completează tabelul.

a		65		44	72
b	31	47	59		
$a + b$	65			86	
$a - b$			37		44

pagina 12

1. Află numerele:

• cu 7 mai mari decât: 24, 13, 57, 42

$$24 + 7 = 31; \quad 13 + 7 = 20; \quad 57 + 7 = 64; \quad 42 + 7 = 49.$$

• cu 15 mai mici decât: 81, 67, 34, 58

$$81 - 15 = 66; \quad 67 - 15 = 52; \quad 34 - 15 = 19; \quad 58 - 15 = 43.$$

• cu 23 mai mici decât: 67, 88, 92, 52

$$67 - 23 = 44; \quad 88 - 23 = 65; \quad 92 - 23 = 69; \quad 52 - 23 = 29.$$

2. Scrie toate numerele naturale de două și de trei cifre care se pot forma cu cifrele date și le conțin pe amândouă.

4 și 9

49, 94, 449,
494, 499, 944,
949, 994

2 și 4

24, 42, 224,
242, 244, 422,
424, 442

1 și 7

17, 71, 117,
171, 177, 711,
717, 771

5 și 7

57, 75, 557,
575, 577, 755,
757, 775

3 și 7

37, 73, 337,
373, 377, 733,
737, 773

8 și 9

89, 98, 889,
898, 899, 988,
989, 998

pagina 14

1. Află numărul necunoscut.

$$49 + a = 73$$

$$a = 73 - 49$$

$$a = 24$$

$$95 - c = 54$$

$$c = 95 - 54$$

$$c = 41$$

$$15 + e = 95$$

$$e = 95 - 15$$

$$e = 80$$

$$34 + b = 68$$

$$b = 68 - 34$$

$$b = 34$$

$$76 - d = 26$$

$$d = 76 - 26$$

$$d = 50$$

$$56 - f = 23$$

$$f = 56 - 23$$

$$f = 33$$

2. Rezolvă problemele:

La o cofetărie s-au făcut 74 de brișe și cu 37 mai puține ecleruri. Câte dulciuri s-au făcut la cofetărie?

$$74 - 37 = 39 \text{ ecleruri}$$

$$74 + 39 = 113 \text{ dulciuri}$$

Răspuns: 113 dulciuri

O fabrică de biciclete produce zilnic 65 de biciclete roșii și cu 27 mai multe biciclete verzi. Câte biciclete se produc pe zi?

$$65 + 27 = 92 \text{ biciclete verzi}$$

$$65 + 92 = 157 \text{ biciclete}$$

Răspuns: 157 biciclete

pagina 15

1. Serie rezultatul.

$$24 + 34 - 22 = 36 \quad 37 - 20 + 48 = 65$$

$$47 + 28 + 22 = 97 \quad 85 - 47 + 30 = 68$$

$$96 - 14 - 57 = 25 \quad 50 + 10 - 42 = 18$$

$$58 - 41 - 10 = 7 \quad 39 + 45 - 28 = 56$$

$$15 + 27 + 32 = 74 \quad 23 + 57 + 12 = 92$$

$$78 - 42 + 25 = 61 \quad 89 - 41 - 22 = 26$$

$$64 + 17 + 10 = 91 \quad 56 + 34 - 53 = 37$$

2. Rezolvă:

Din ce număr se scade 32 și se obține 52?

$$52 + 32 = 84$$

Ce număr am adunat cu 67 pentru a obține 91?

$$91 - 67 = 24$$

Ce număr s-a scăzut din 78 pentru a avea rezultatul 53?

$$78 - 53 = 25$$

Ce număr adunat cu el însuși dă rezultatul 84?

$$42 + 42 = 84$$

pagina 20

1. Colorează căsuța cu răspunsul corect.

$$86 - 23 = \begin{matrix} 36 & 63 & 66 \end{matrix} \quad 96 - 48 = \begin{matrix} 45 & 48 & 43 \end{matrix}$$

$$47 - 22 = \begin{matrix} 23 & 40 & 20 \end{matrix} \quad 88 - 57 = \begin{matrix} 31 & 41 & 51 \end{matrix}$$

$$74 - 36 = \begin{matrix} 45 & 28 & 38 \end{matrix} \quad 45 - 29 = \begin{matrix} 16 & 26 & 48 \end{matrix}$$

$$85 - 66 = \begin{matrix} 19 & 20 & 21 \end{matrix} \quad 85 - 39 = \begin{matrix} 24 & 46 & 30 \end{matrix}$$

$$36 - 12 = \begin{matrix} 24 & 34 & 16 \end{matrix} \quad 73 - 48 = \begin{matrix} 36 & 35 & 25 \end{matrix}$$

2. Rezolvă problema.

Într-o cutie sunt 15 bile verzi, 43 de bile violete și 9 bile portocalii. Completează:

Bilele violete sunt cu 28 mai multe decât bilele verzi.

Bilele portocalii sunt cu 34 mai puține decât bilele violete.

În total sunt 67 bile.