



Fișa de recapitulare 1. ANIMALE SĂLBATICE

- 1 Desparte în silabe cuvintele care denumesc imaginile, trasând câte o linie orizontală pentru fiecare silabă. Colorează animalul preferat!



- 2 Descoperă animalele ascunse după tufiș! Scrie literele lipsă.



CĂ__IL__



U__S



CR__COD__L



Z__BR__



LE__



M__IMU__Ă

12 Află câte animale sunt în Pădurea Magică și completează tabelul, știind că:

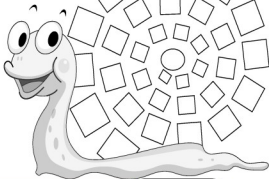
- Numărul urșilor reprezintă vecinul mai mic al numărului 15.
- Numărul vulpilor reprezintă suma vecinilor numărului 7.
- Numărul iepurașilor este cu 2 mai mare decât numărul urșilor.
- Numărul aricilor reprezintă suma numerelor pare mai mici decât 10.



Practic

Colorează melcul din Pădurea Magică cât mai frumos! Începe de la mic la mare, schimbând de fiecare dată culoarea.



Privește melcul obținut. Cum te simți când te uiți la desen? Desenează fața.



Cum ai lucrat?
Colorează fața potrivit!







Fișa de recapitulare 4. CORPUL OMENESC

1 Citește următorul text, înlocuind ilustrațiile cu cuvinte:

O POVESTE „SĂNĂTOASĂ”



Tina este o fetiță cu  albaștri și părul galben ca .



Ea mănâncă multe  și  ca să fie sănătoasă.




și



sunt prietenii ei foarte buni.

În fiecare zi,  face sport cu prietenele, se plimbă cu 

prin parc și se joacă cu  ei.

Bifează răspunsurile corecte:

Tina are  : negri verzi albaștri

periuța, săpunul, parfumul

Prietenii ei sunt: periuța, pasta de dinți, săpunul

pasta de dinți, săpunul, fructele

Tina se plimbă zilnic cu: trotineta rolele coarda

Tina are: o pisicuță o cățelușă un papagal

3 Rezolvă problemele:

PROBLEMA 1

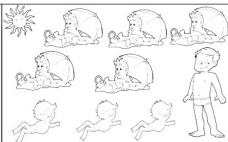
Daniel a desenat:



Pentru ca numărul  să fie egal cu al , el trebuie să taie .

PROBLEMA 2

5 copii stăteau la soare,
Unul tot privea în zare
Și **3** înotau în mare.
Câți copii erau ei oare?



Rezolvare:

<input type="text"/>	<input type="text"/>	<input type="text"/>	<input type="text"/>	<input type="text"/>	<input type="text"/>	<input type="text"/>	<input type="text"/>	<input type="text"/>	<input type="text"/>
----------------------	----------------------	----------------------	----------------------	----------------------	----------------------	----------------------	----------------------	----------------------	----------------------

4 Fiecare imagine reprezintă un număr. Calculează numerele.

$$\text{👁️} + \text{👁️} = 14$$

$$\text{👁️} + \text{👄} = 8$$

$$\text{👂} - \text{👄} = 2$$

$$\text{👁️} + \text{👂} = 10$$

$$\text{👁️} = \square$$

$$\text{👄} = \square$$

$$\text{👂} = \square$$

Scrie numerele găsite în casete.



Cum ai lucrat?
Colorează fața potrivită!



6 Unește fiecare operație cu rezultatul corespunzător.

$11 + 4$

$16 + 4$

$3 + 13$

$13 - 3$

$23 - 4$

$18 - 11$

20

15

10

19

16

7

7 Miaunica are 3 ani, Rex are cu 5 ani mai mult, iar Negruța 6 ani.

• Câți ani are Rex?

$\square + \square = \square$

• Câți ani au animalele în total?

$\square + \square + \square = \square$



8 Azor are două grămezi de oase.



■ Câte oase trebuie să mănânce din prima grămadă pentru a rămâne cât în a doua?

--	--	--	--	--	--	--	--

■ Taie oasele pe care le va mânca.



- Colorează animalele de mai jos folosind culori vesele și ciudate, altele decât cele pe care le au în realitate!
- Ce crezi că ar spune animalele dacă și-ar vedea noile culori?

Practic



Cum ai lucrat?
Colorează fața potrivit!





Fișa de recapitulare 8. CĂLĂTOR PRINTRE STELE

1 Unește casețele cu literele din steluțe și descoperă cuvintele:



2 Potrivește jumătățile, apoi unește cu denumirea imaginii formate. Colorează caseta care indică numărul de silabe pentru fiecare cuvânt.



SOARE		
1	2	3

LUNA		
1	2	3

PĂMÂNT		
1	2	3

STEA		
1	2	3

ASTRONAUT			
1	2	3	4

Scrie cuvântul care are cele mai multe silabe.



Scrie cuvântul care are cele mai puține silabe.